

Hauts de Flandre

OFFICE DE TOURISME



*Salut ! Je m'appelle Jérôme.
Aide-moi à répondre aux questions grâce aux
indices que tu trouveras en visitant le village.
Observe bien et pars à l'aventure !*

Holque
2.5 Km




Holque

Pour réaliser ce rallye, les enfants doivent obligatoirement être accompagnés d'un adulte. Le parcours vous fera, parfois, emprunter des routes à circulation et sans trottoir. Vous devez donc circuler de manière prudente sur le côté gauche de la chaussée pour voir et être vu. La CCHF ou l'OTI déclinera toute responsabilité en cas de problème.



 **Traversée dangereuse**

Départ : face à la Mairie, prends à gauche et retourne à gauche pour emprunter la rue St Goewaert.
Passe devant la Chapelle St Goewaert et rejoins l'Aa (le fleuve).
Tourne à gauche pour emprunter la rue de l'Aa.
Tourne à droite pour parcourir l'îlot.
A la sortie de l'îlot reprends la rue de l'Aa, à droite et tourne immédiatement à gauche sur la route de Ruminghem  (D 3B) : sers bien à gauche.
Tourne à gauche sur la route de Bourbourg (D1).
Au centre du village, prends à droite pour rejoindre l'église.
Tu pourras ensuite retourner à ton point de départ.

Le saviez-vous ?

Holque est un territoire qui a été asséché à partir du XI^e siècle par des moines car à l'époque ce n'était que marécages (Son altitude ne dépasse pas 4 m). Entouré d'eau, le village est coincé entre, à sa gauche, l'Aa (1^{er} fleuve français, qui se jette dans la mer du Nord), et à sa droite, le canal de la Haute Colme qui rallie Saint-Omer au port intérieur de Dunkerque. Les watergangs (fossés) font également partie du paysage puisqu'ils drainent l'eau des champs.

Creusé par l'homme, l'îlot de l'Aa est né du redressement du canal de l'Aa afin de permettre aux péniches de passer. Pour ne pas combler cet îlot de 2 hectares, il a été décidé de mettre du sable et de la terre dessus et d'y laisser un accès du fait de la présence d'un pylône haute tension.

L'église Saint-Michel, située en retrait de la route n'a qu'une seule nef (grande salle) alors que la traditionnelle église flamande, appelée Hallekerke, en a 3.



Face à la Mairie, prends à gauche et retourne à gauche pour emprunter la rue S^t Goewaert.

1. Tu

remarqueras sur de nombreuses maisons, en-dessous du toit, ce que l'on appelle des ancres. Cette ancre est l'extrémité d'une barre de fer, appelée le tirant, destinée à empêcher l'écartement de deux murs opposés.

Combien y en a-t-il sur la façade de la maison, au N° 14 ?

Entoure la bonne réponse.



4



5



6

2. Quel accessoire est monté sur la pointe de l'école ? Remets les lettres dans le bon ordre pour trouver la solution.

CCELOH



3. La rue porte le nom d'un Saint (que l'on écrit Gohart en français), invoqué contre des maladies telles que les rhumatismes, la sciatique, les maladies inflammatoires, ainsi que pour la préservation des bêtes à cornes. De quel Saint s'agit-il ? Entoure la bonne réponse.



Saint-Antoine



Saint-Goewart



Saint-Glinglin

4. Sur le bâtiment accolé au stade, on a utilisé le procédé des runes, c'est-à-dire que lors de la construction, on a inséré dans le mur des briques de couleurs différentes pour faire ressortir un dessin, des lettres ou des chiffres. Qu'a-t-on voulu faire ressortir dans ce cas de figure ?




5. Au bout de la rue, un watergang (fossé avec de l'eau) abrite des animaux. Saurais-tu en citer deux ?

1. _____
2. _____

Passes devant la chapelle St Goewaert et rejoins l'Aa (le fleuve).

6. Sur ta droite, tu apercevras une petite maison. Quel est son nom exact ? Résous ce rébus pour le savoir.



Un verger de maraude a été implanté en bordure de route. C'est un endroit où l'on a planté des arbres fruitiers de la région. Remplis le texte à trous ci-dessous pour comprendre son utilité. Tu pourras t'aider du panneau.

Autrefois, les seuls fruits consommés étaient les fruits de nos vergers. Ces _____ participant à l'identité paysagère de la Flandre qui traditionnellement est une région de production de pommes. Composé de 1 _____ variétés différentes de pommes, poires, prunes et cerises, le patrimoine fruitier du Nord-Pas-de-Calais a, un temps, été délaissé par les consommateurs malgré la qua _____ de ces fruits.

Vous trouverez dans ce verger pédagogique des variétés de fruits issues du t _____. Il s'agit de variétés sélectionnées pour leurs qualités gust _____, leur faible sensibilité aux maladies et leur capacité à produire des fruits. Ces variétés anciennes ont toutes leur intérêt et sont commercialisées avec la mention : variété rustique régionale recommandée par le Centre Régional Génétique Nord pas de Calais. Nous vous invitons à les redécouvrir lors de vos balades. Veuillez resp _____ ce lieu et n'oubliez pas qu'un arbre met des dizaines d'années avant de devenir adulte et qu'il est l'hô _____ de nombreux animaux.

Tourne à gauche pour emprunter le chemin qui longe le fleuve.

8. Le fleuve que tu vas longer rappelle le nom de la rue que tu vas emprunter. Comment s'appelle-t-il ?



9. Quel moyen de transport est dessiné sur la plaque de la maison au N° 3. Entoure la bonne réponse.



un tracteur



un bateau



un vélo



10. L'«outil» qui est fixé au mur de la maison au N°29 sert à puiser un liquide venant du sol. Duquel s'agit-il ? Tu trouveras quelques indices ci-dessous pour t'aider :

Ce liquide existe sous les trois états :

Liquide, comme la pluie

Solide, comme la glace

Gazeux, comme la vapeur



11. De l'autre côté de la rive, tu apercevras un panneau de signalisation pour les bateaux. Lequel est-ce ? Entoure la bonne réponse



Tourne à droite
pour parcourir
l'îlot.



12. Tu vas rejoindre l'îlot de l'Îla. Tu dois respecter cette zone nature : tu peux faire certaines choses, d'autres pas. Relie ce que tu as le droit de faire ou pas

- | | | |
|-----------|-------------------------------------|------------------|
| | * promener mon chien * | |
| | * faire du feu * | |
| | * marcher * | |
| | * cueillir des fleurs * | |
| | * entrer en voiture, vélo, moto * | |
| | * pêcher * | |
| Je peux * | * faire du cerf-volant * | * Je ne peux pas |
| | * respecter les poissons * | |
| | * laisser des débris * | |
| | * pique-niquer * | |
| | * écouter de la musique trop fort * | |
| | * se baigner * | |
| | * prendre des photos * | |

13. L'îlot créé par
l'homme permet ainsi l'accès à un pylône
électrique haute tension. Quelle forme a-t-il ?
Entoure la bonne réponse.



Pylône «chat»



Pylône «6 triangles»




Pylône «portique»

14. L'îlot est l'hôte de nombreux animaux.
Résous la charade et tu retrouveras un de ces animaux,
(représenté sur le dessin)

On respire mon premier.
Mon deuxième a la forme d'un ballon.
Mon troisième circule dans nos veines.
Mon quatrième est le son de la lettre « D ».
Mon cinquième peut se faire au milieu du crâne en se coiffant.



15. Range ces bateaux du plus petit au plus grand pour retrouver le mot qui indique que le fleuve se divise en plusieurs bras (comme l'Aa).



16. Des animaux ont également élu domicile dans ses eaux. Retrouve le nom de l'un d'eux et entoure la bonne réponse



A la sortie de l'îlot reprends la rue de l'Aa, à droite et tourne immédiatement à gauche sur la route de Rumingham (D 3B) : sers bien à gauche. Tourne à gauche sur la route de Bourbourg (D1).

17. Cet arbre a une forme particulière. Comment appelle-t-on ce type d'arbre ? Entoure la bonne réponse.



un arbre parapluie




un arbre parasol



un arbre para-tonnerre








18. La chapelle Notre-Dame de bon secours a de jolis vitraux colorés. De quelles couleurs sont-ils ? Entoure la bonne réponse.



19. Au N°25, des carreaux représentant les fleurs violettes décorent la façade.

De quelle plante s'agit-il ?

Les initiales des fleurs ci-contre te permettront de la retrouver.





—	Q	—	—	—	O	—	
—	—	T	—	S	—	—	
—	R	—	M	—	—	—	
—	—	S	E	—	—	—	
—	—	L	H	—	—	—	
—	—	H	I	—	—	—	
—	—	—	P	—	—	R	

20. Le clocher est soutenu par des contreforts qui servent d'appui et de renfort. Combien y en a-t-il ?



Au centre du village, prends à droite pour rejoindre l'église.

21. En Flandre, les églises sont souvent entourées de leur cimetière. Sais-tu comment cela se dit en Flamand ? Déchiffre ce code.


— — — — —

 O  /  O =  \$

A B C D E F G H I J K L M N O P Q R S T U V W X Y Z
 & # ! @  \$ □ = + □ ○ △ → ↑  ★ / ⓘ ◇ ♀   

Retrouve les mots inscrits dans tous les sens et raye chaque mot dans la liste.

W	S	O	R	O	M	S	C	V	L	Y	K	G	N	Y	S	N	M
F	Z	S	S	V	G	A	W	S	X	G	Y	G	H	H	J	S	V
C	X	K	Y	N	Y	V	L	Y	Y	C	B	A	T	E	A	U	I
P	G	Q	O	Q	E	E	G	V	D	Z	Z	K	O	G	F	O	C
E	C	H	A	P	E	A	U	S	U	N	V	X	R	R	S	C	B
V	X	Y	P	P	I	R	A	T	E	B	R	L	B	I	H	P	T
U	F	U	F	I	B	S	A	B	R	E	G	N	B	L	Q	Y	H
O	H	C	P	P	P	E	R	R	O	Q	U	E	T	L	T	Y	I
R	Q	K	E	V	O	X	A	I	B	M	E	K	L	X	R	S	X
W	B	C	L	H	U	C	U	H	W	Z	I	M	Z	T	E	Z	Z
K	Y	F	D	Q	L	L	P	H	Q	M	O	J	W	P	S	F	S
Y	H	R	S	B	Y	W	D	C	C	U	N	V	M	B	O	M	Q
B	T	O	J	G	G	A	N	R	R	B	Q	U	H	M	R	V	D
J	B	X	Q	B	U	H	Z	W	Z	K	V	X	P	O	L	W	E
P	L	Z	C	O	F	F	R	E	P	B	C	I	K	S	D	D	E
D	D	V	D	R	A	P	E	A	U	G	M	N	X	U	T	F	F
U	G	Q	M	Q	A	P	C	A	R	T	E	B	V	X	R	Y	Z
O	X	B	U	Z	I	T	T	B	L	Q	T	M	G	L	Z	V	X

- PERROQUET
- CHAPEAU
- DRAPEAU
- BATEAU
- COFFRE
- PIRATE
- TRESOR
- CARTE
- SABRE
- OR



Complète l'autre partie du dessin.



En reportant les lettres colorées, tu trouveras le nom d'un lieu-dit du village qui se traduirait par ligne de flottaison, en rapport à l'altitude avoisinant celle de la mer.



On dit que mon premier picorait du pain dur, sur un mur
Mon deuxième est entre les fesses et la nuque

Je suis un petit oiseau reconnaissable à mon bec rouge à extrémité jaune. Mes pattes sont vert-jaune et ne sont pas palmées. On me confond souvent avec la foulque (qui elle a un bec blanc).


Découvre la solution en scannant le QR code!



Hauts de Flandre
OFFICE DE TOURISME

CCHF
Centre de Service Client
des Hauts de Flandre

En... Quête N° 14 de l'Office de Tourisme Intercommunal des Hauts de Flandre
Directeurs de publication : André Figoureux, Maryse Leprovost
Directrice de l'Office de Tourisme : Virginie Noert
Conception du rallye : Maryline Regnard
Conception graphique : service communication CCHF V. Bodart
Crédits photos : CCHF, Adobe stocks et DTI



Aide Jérôme à retrouver le trésor !